



Министерство здравоохранения Российской Федерации

федеральное государственное бюджетное образовательное учреждение
высшего образования

«Рязанский государственный медицинский университет
имени академика И.П. Павлова»

Министерства здравоохранения Российской Федерации
ФГБОУ ВО РязГМУ Минздрава России

Утверждено решением ученого совета
Протокол №10 от 21.05.2024 г.

Комплект оценочных материалов по дисциплине	«Экономика общественного сектора»
Образовательная программа	Основная профессиональная образовательная программа высшего образования – программа магистратуры по направлению подготовки 32.04.01. Общественное здравоохранение Профиль: Управление в здравоохранении
Квалификация	магистр
Форма обучения	очная

Разработчик (и): кафедра гуманитарных дисциплин

ИОФ	Ученая степень, ученое звание	Место работы (организация)	Должность
Е. В. Слотина	кандидат экономических наук, доцент	ФГБОУ ВО РязГМУ Минздрава России	доцент кафедры гуманитарных дисциплин

Рецензент (ы):

ИОФ	Ученая степень, ученое звание	Место работы (организация)	Должность
Т.В. Моталова	кандидат медицинских наук, доцент	ФГБОУ ВО РязГМУ Минздрава России	декан медико- профилактического факультета, доцент кафедры профильных гигиенических дисциплин с курсом гигиены, эпидемиологии и организации госсанэпидслужбы ФДПО
Т.Г. Авачёва	кандидат физико- математических наук, доцент	ФГБОУ ВО РязГМУ Минздрава России	зав. кафедрой математики, физики и медицинской информатики

Одобрено учебно-методической комиссией по специальности Медико-профилактическое дело

Протокол № 9 от 16.04. 2024 г.

Одобрено учебно-методическим советом.

Протокол № 7 от 25.04. 2024г.

.

1. Паспорт комплекта оценочных материалов

1.1. Комплект оценочных материалов (далее – КОМ) предназначен для оценки планируемых результатов освоения рабочей программы дисциплины «Экономика общественного сектора»

1.2. КОМ включает задания для проведения текущего контроля и промежуточной аттестации.

Общее количество заданий и распределение заданий по типам и компетенциям:

Код и наименование компетенции	Количество заданий закрытого типа	Количество заданий открытого типа
УК-5. Способен анализировать и учитывать разнообразие культур в процессе межкультурного взаимодействия.	20	50
УК-6. Способен определять и реализовывать приоритеты собственной деятельности и способы ее совершенствования на основе самооценки.	20	24
Итого	40	74

1.3. Дополнительные материалы и оборудование для выполнения заданий (при необходимости).

Дополнительные материалы и оборудование для выполнения заданий не используются.

Задания всех типов, позволяющие осуществлять оценку всех компетенций, установленных рабочей программой дисциплины «Экономика общественного сектора»

Код и наименование компетенции	№ п/п	Задание с инструкцией																													
УК-5 Способен анализировать и учитывать разнообразие культур в процессе межкультурного взаимодействия	1.	Задания закрытого типа																													
		К каждой позиции, данной в левом столбце, подберите соответствующую позицию из правого столбца: Предметная область экономики общественного сектора <table border="1" data-bbox="414 443 1503 740"> <thead> <tr> <th></th> <th>Фундаментальные вопросы экономики</th> <th></th> <th>Область ответов</th> </tr> </thead> <tbody> <tr> <td>А</td> <td>Что производить</td> <td>1</td> <td>Механизм ценообразования/ налогообложения</td> </tr> <tr> <td>Б</td> <td>Как производить</td> <td>2</td> <td>Механизм распределения общественных благ</td> </tr> <tr> <td>В</td> <td>Для кого производить</td> <td>3</td> <td>Механизм согласования индивидуальных предпочтений и коллективное решение</td> </tr> <tr> <td>Г</td> <td>Как осуществить коллективный выбор</td> <td>4</td> <td>Частные или общественные блага, выбор общественных благ</td> </tr> </tbody> </table> <p>Запишите выбранные цифры под соответствующими буквами:</p> <table border="1" data-bbox="414 810 640 884"> <tr> <td>А</td> <td>Б</td> <td>В</td> <td>Г</td> </tr> <tr> <td></td> <td></td> <td></td> <td></td> </tr> </table>					Фундаментальные вопросы экономики		Область ответов	А	Что производить	1	Механизм ценообразования/ налогообложения	Б	Как производить	2	Механизм распределения общественных благ	В	Для кого производить	3	Механизм согласования индивидуальных предпочтений и коллективное решение	Г	Как осуществить коллективный выбор	4	Частные или общественные блага, выбор общественных благ	А	Б	В	Г		
	Фундаментальные вопросы экономики		Область ответов																												
А	Что производить	1	Механизм ценообразования/ налогообложения																												
Б	Как производить	2	Механизм распределения общественных благ																												
В	Для кого производить	3	Механизм согласования индивидуальных предпочтений и коллективное решение																												
Г	Как осуществить коллективный выбор	4	Частные или общественные блага, выбор общественных благ																												
А	Б	В	Г																												
2.	К каждой позиции, данной в левом столбце, подберите соответствующую позицию из правого столбца:																														
	Экономисты		Как понимается государство в трудах экономистов																												
А	А. Смит	1	Экономика неспособна самостоятельно преодолеть спад, поэтому требуется государственное вмешательство. Экономические меры государства по повышению совокупного спроса могут уравновесить его с совокупным предложением. Благодаря этому экономика выйдет из кризисного состояния, её развитие начнёт стабилизироваться																												
Б	Дж. С. Милль	2	Этот экономист разработал теорию политического рынка, объясняющую, какой объем каждого общественного блага необходимо предоставить населению и как																												

			должны распределяться затраты на их финансирование, а также рассмотрел возможные механизмы принятия таких решений. Для того чтобы улучшить функционирование политической системы государства, разумнее не искать лучших из лучших, чтобы потом избрать их в государственные органы, а искать пути ограничения избранных в определенных рамках
В	Дж. М. Кейнс	3	Государство, гарантирующее все виды индивидуальных свобод, способно установить у себя и надлежащий порядок. В узком смысле слова он (порядок) означает повиновение
Г	Дж. Бьюкенен	4	Исключение государственного регулирования приведёт к повышению эффективности функционирования экономики, поскольку рыночная система способна к саморегулированию через действие механизма «невидимой руки»

Запишите выбранные цифры под соответствующими буквами:

А	Б	В	Г

3.

К каждой позиции, данной в левом столбце, подберите соответствующую позицию из правого столбца:

	Экономические категории		Формулировка
А	Парето-оптимальное состояние	1	Принцип теории общего равновесия, согласно которому совокупная стоимостная оценка избыточного спроса/предложения всегда равна нулю
Б	Парето-улучшение	2	Это действие, которое делает по крайней мере одного человека лучше, не делая никого хуже
В	Равновесие по Вальрасу	3	Ситуация, когда нельзя улучшить положение любого участника экономического процесса, одновременно не снижая благосостояния как минимум одного из остальных
Г	Закон Маршалла	4	Рассмотрение прихода рынка к равновесному

состоянию не под влиянием давления избытков спроса и предложения, а под воздействием превышения цены спроса над ценой предложения или, наоборот, цены предложения над ценой спроса

Запишите выбранные цифры под соответствующими буквами:

А	Б	В	Г

4.

К каждой позиции, данной в левом столбце, подберите соответствующую позицию из правого столбца:

	Экономические категории		Формулировка
А	Сильная ловушка безработицы	1	Возникает в тех случаях, когда чистый денежный доход работающего превышает доход, которым он располагал бы, не имея работы, но разница недостаточна, чтобы перекрыть отрицательную полезность трудовых усилий
Б	Слабая ловушка безработицы	2	Возникает в тех случаях, когда чистый денежный доход безработного превышает чистый денежный доход работающего. Чистый доход работающего меньше его зарплаты на величину налогов, расходов на транспорт и пр.
В	Сильная ловушка бедности	3	Возникает, если дополнительный доход индивида недостаточен, чтобы преysить эксплицитное и имплицитное налогообложение
Г	Слабая ловушка бедности	4	Прирост эксплицитного и имплицитного налогообложения примерно равен приросту заработной платы, но недостаточен для покрытия отрицательной полезности трудовых усилий

Запишите выбранные цифры под соответствующими буквами:

А	Б	В	Г
---	---	---	---

--	--	--	--

5. Расположите в правильной последовательности модели рынков по принципу возрастания конкуренции продавцов:
 А. Рынок монополистической конкуренции
 Б. Рынок совершенной (чистой) конкуренции
 В. Рынок чистой монополии
 Г. Рынок олигополистической конкуренции

А	Б	В	Г

6. К каждой позиции, данной в левом столбце, подберите соответствующую позицию из правого столбца:

	Экономисты		Модели общественного благосостояния
А	А. Бергсон, П. Самуэльсон	1	Предложил решение задачи максимизации общественного благосостояния путем перераспределения первоначального дохода индивида
Б	А. Пигу	2	Целью всякого человеческого действия является стремление к достижению благосостояния в той или иной форме. Этот экономист признавал и альтруистические мотивы, но считал, что в их основе лежат эгоистические удовольствия, а целью экономического человека является немедленное потребление
В	И. Бентам	3	Макроэкономический эффект, приводящий к установлению равновесия между ценами, благосостоянием населения и его занятостью

Запишите выбранные цифры под соответствующими буквами:

А	Б	В

7. Расположите рынки в правильной последовательности по степени возрастания их концентрации, если индекс Герфиндаля для этих рынков составляет:

- А. 10 000
- Б. 5650
- В. 7200
- Г. 1800

А	Б	В	Г

8.

К каждой позиции, данной в левом столбце, подберите соответствующую позицию из правого столбца:

	Критерии классификации внешних эффектов		Внешние эффекты
А	По источнику возникновения	1	Локальные Глобальные
Б	По масштабу воздействия	2	В производстве В потреблении
В	По степени воздействия на третьих лиц	3	Производство-производство Производство-потребление Потребление – потребление Потребление-производство
Г	По двустороннему характеру	4	Положительные Отрицательные

Запишите выбранные цифры под соответствующими буквами:

А	Б	В	Г

К каждой позиции, данной в левом столбце, подберите соответствующую позицию из правого столбца:

	Виды общественных благ		Критерии общественных благ
А	Чистые общественные блага	1	Могут быть доступны всем жителям планеты или предоставляться для населения какого-то конкретного региона, например: борьба с загрязнением воздуха и расширением озоновой дыры и т.п.
Б	Международные, общегосударственные и местные (локальные) общественные блага	2	При заданном произведённом объёме такого блага предельные издержки его предоставления равны нулю, что вызывает «проблему безбилетника»: даже не заплатившего нельзя лишить возможности быть потребителем. Примерами могут служить: национальная оборона, охрана правопорядка, а также другие коллективно потребляемые блага, такие как освещение улиц в городах или фундаментальные научные знания
В	Социально значимые блага	3	Удовлетворяют определенные потребности, которые у индивидов не сформированы должным образом в основном из-за неполной информированности (несовершенства знаний), и, как следствие, выбирается меньший объем их потребления, чем следовало бы. Например: бесплатное образование, школьные обеды и завтраки, субсидируемое жилье для малообеспеченных семей и т.п.

9.

Запишите выбранные цифры под соответствующими буквами:

А	Б	В

К каждой позиции, данной в левом столбце, подберите соответствующую позицию из правого столбца:

	Процедуры, используемые при принятии решений в условиях прямой демократии		Формулировка процедур	
10.	А	Правило Кондорсе	1	Наименее предпочитаемому кандидату приписывается величина 0, следующему — 1 и т. д. Победитель — альтернатива, суммарные значения которой наивысшие
	Б	Правило Борда	2	Бинарное сравнение предпочтений. Вариант, который по большинству голосов лучше любого другого (при сравнении каждого варианта с каждым другим)
	В	Простое большинство	3	Принцип заключается в том, что при выборе из множества альтернатив та, которая получает большинство голосов, принимается

Запишите выбранные цифры под соответствующими буквами:

А	Б	В

К каждой позиции, данной в левом столбце, подберите соответствующую позицию из правого столбца:

	Характерные черты представительской демократии		Определения	
11.	А	Политическая конкуренция	1	Это предусмотренная Конституцией РФ процедура назначения Председателя и утверждение по его предложению Президентом РФ иных членов
	Б	Формирование правительства	2	Это соперничество в сфере политики за обладание властью, когда результаты соперничества определяет некто третий
	В	Создание коалиций	3	Все способы влияния на представителей

	в представительных органах власти		власти с целью принятия выгодного для ограниченной группы избирателей политического решения
Г	Логроллинг	4	Заключение договоров для создания оптимального большинства, способного принимать решения
Д	Лоббизм	5	Практика взаимной поддержки путем «торговли голосами»

Запишите выбранные цифры под соответствующими буквами:

А	Б	В	Г	Д

12. Распределите следующие макроэкономические показатели по степени убывания их величины:

А. Располагаемый доход
 Б. Валовый внутренний продукт
 В. Личный доход
 Г. Зарплата

А	Б	В	Г

13. К каждой позиции, данной в левом столбце, подберите соответствующую позицию из правого столбца:

	Категории рынка		Основные категории политического рынка
А	Благо	1	Голос/налоги
Б	Цена	2	Формируют избиратели
В	Спрос	3	Законы
Г	Предложение	4	Чиновники(бюрократы)
Д	Посредники	5	Формируют депутаты

Запишите выбранные цифры под соответствующими буквами:

А	Б	В	Г	Д

14. К каждой позиции, данной в левом столбце, подберите соответствующую позицию из правого столбца:

	Экономические циклы		Характеристика экономического цикла
--	---------------------	--	-------------------------------------

А	Циклы Кондратьева	1	Продолжительность цикла составляет около 10-12 лет. Причины этих циклов тесно связаны с длительностью жизненных циклов товаров, технологий, оборудования, финансовых и кредитных процессов
Б	Циклы Клемента Жуглара	2	Циклы длятся 2 года 4 месяца, а основной их причиной служит изменение потребительских вкусов и предпочтений
В	Циклы Джозефа Китчина	3	Продолжительность циклов составляет примерно 55 лет. Главная причина больших циклов – это крупные инновации, в качестве которых могут выступать не только технические, но и социально-экономические новшества

Запишите выбранные цифры под соответствующими буквами:

А	Б	В

15. К каждой позиции, данной в левом столбце, подберите соответствующую позицию из правого столбца:

	Идентификаторы оценки разницы в доходах богатых и бедных слоев населения в стране		Характеристика идентификатора
А	Децильный коэффициент	1	Этот коэффициент равен отношению среднего дохода 25% богатейших домашних хозяйств к среднему доходу 25% беднейших домохозяйств
Б	Квинтильный коэффициент	2	Показывает, во сколько раз 10% самых богатых людей страны богаче 10% самых бедных людей. Приемлемым считается значение коэффициента, не превышающее 4 – 5, что соответствует разрыву в доходах между бедными и богатыми в 4-5 раз

В	Квартильный коэффициент	3	Позволяет определить разницу в доходах 20% самых богатых и 20% самых бедных слоев населения. Он рассчитывается путем деления суммарных доходов 20% самых богатых людей на суммарные доходы 20% самых бедных людей страны. Этот коэффициент должен давать разрыв в доходах не более чем в 2-3 раза
---	-------------------------	---	---

Запишите выбранные цифры под соответствующими буквами:

А	Б	В

16. К каждой позиции, данной в левом столбце, подберите соответствующую позицию из правого столбца:

	Формы рынка		Примеры
А	монополия	1	Фондовая биржа
Б	монопсония	2	ПАО «Российские железные дороги»
В	олигополия	3	Несколько агрохолдингов покупают сельскохозяйственную продукцию множества фермеров
Г	олигопсония	4	Производство автомобилей несколькими крупными компаниями
Д	полиполия	5	Рынок труда населённого пункта, где все жители работают на единственном предприятии

Запишите выбранные цифры под соответствующими буквами:

А	Б	В	Г	Д

17. К каждой позиции, данной в левом столбце, подберите соответствующую позицию из правого столбца:

	Модели рынка		Основные признаки
А	Рынок совершенной (чистой) конкуренции	1	Один продавец и много покупателей; отсутствие заменителей у продукта
Б	Рынок монополистической конкуренции	2	От 2 до 10 продавцов и много покупателей; продукт и однородный и дифференцированный

В	Рынок олигополистической продукции	3	Неограниченное число продавцов и покупателей; абсолютно однородный продукт
Г	Рынок чистой монополии	4	От 10 до 100 продавцов, неограниченное число покупателей; дифференцированный продукт

Запишите выбранные цифры под соответствующими буквами:

А	Б	В	Г

18. К каждой позиции, данной в левом столбце, подберите соответствующую позицию из правого столбца:

	Макроэкономические показатели		Экономическая характеристика
А	Валовой внутренний продукт	1	Оставшаяся часть личного дохода после уплаты налогов физическими лицами
Б	Валовой национальный доход	2	Сумма ВВП и сальдо первичных доходов из-за границы
В	Личный доход	3	Стоимость всех произведённых в стране за год товаров и услуг
Г	Распределительный доход	4	Сумма зарплаты, процентов, ренты, потребляемой части прибыли, а также социальных выплат

Запишите выбранные цифры под соответствующими буквами:

А	Б	В	Г

19. К каждой позиции, данной в левом столбце, подберите соответствующую позицию из правого столбца:

	Модели экономических процессов		Графическая интерпретация
А	Модель альтернативного использования постоянного объёма экономических ресурсов	1	Кривая изменения объёма ВВП страны во времени

	стран для выпуска двух видов продукции		
Б	Эффект масштаба	2	Кривая зависимости средних валовых издержек фирмы в долгосрочном периоде от увеличения объёма производства продукции
В	Модель рыночного равновесия	3	Кривая производственных возможностей
Г	Модель экономического цикла	4	Пересекающиеся кривые спроса и предложения

Запишите выбранные цифры под соответствующими буквами:

А	Б	В	Г

20. К каждой позиции, данной в левом столбце, подберите соответствующую позицию из правого столбца:

	Основные проблемы (болезни) экономики		Формулировки
А	Инфляция	1	Наличие в стране людей, составляющих часть экономически активного населения, которые способны и желают трудиться, но не могут найти работу
Б	Безработица	2	Процесс, который характеризуется избыточными и сложными административными процедурами, необходимыми для осуществления предпринимательской деятельности и развития бизнеса
В	Дефицит государственного бюджета	3	Устойчивое повышение общего уровня цен на товары и услуги; процесс обесценивания денег, падение их покупательной способности вследствие чрезмерного выпуска (эмиссии) или сокращения товарной массы в обращении при неизменном количестве выпущенных денег
Г	Бюрократизация экономики	4	Превышение расходов бюджета над его доходами

Д	Чрезмерный разрыв в доходах богатых и бедных	5	Различие по показателям экономического благосостояния между отдельными лицами в группе, между группами населения
Е	Низкая эффективность производства	6	Суммарные денежные обязательства страны, выражаемые денежной суммой, подлежащей возврату кредиторам на определенную дату
Ж	Внешний долг	7	Это те составляющие производственного процесса, которые практически не создают ценности и прибавочной стоимости

Запишите выбранные цифры под соответствующими буквами:

А	Б	В	Г	Д	Е	Ж

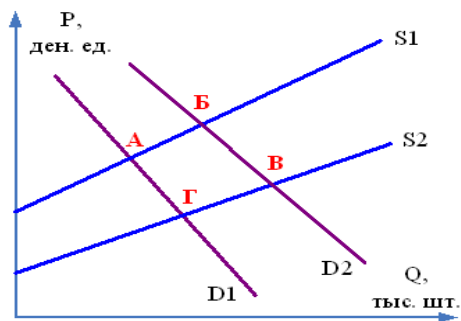
Задания открытого типа

1. Дайте развернутый обоснованный ответ на вопрос:
Что собой представляет государственный сектор экономики?
2. Дайте развернутый обоснованный ответ на вопрос:
Какие основные элементы включает экономическая деятельность государства?
3. Дайте развернутый обоснованный ответ на вопрос:
Каковы три важнейшие черты демократического государства?
4. Дайте развернутый обоснованный ответ на вопрос:
Что собой представляет смешанная экономика?
5. Дайте развернутый обоснованный ответ на вопрос:
В чем состоит экономический смысл закона Вагнера?
6. Дайте развернутый обоснованный ответ на вопрос:
В чем состоит смысл эффекта Баумоля?
7. Дайте развернутый обоснованный ответ на вопрос:
Перечислите основные функции государства при осуществлении экономической деятельности?
8. Дайте развернутый обоснованный ответ на вопрос:
Что такое валовый внутренний продукт (ВВП)?
9. Дайте развернутый обоснованный ответ на вопрос:
Что относится к основным недостаткам (сбоям) рыночного экономического механизма?

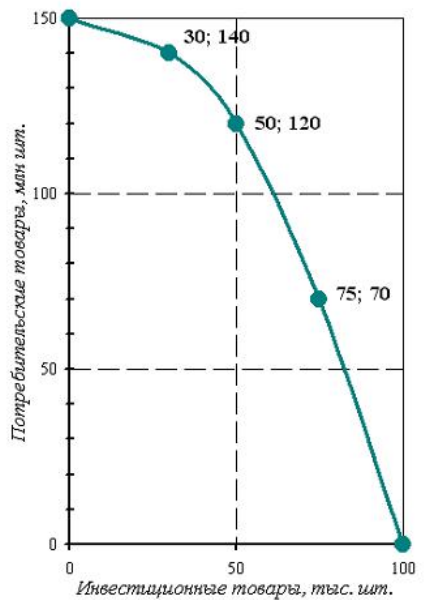
10.	Дайте развернутый обоснованный ответ на вопрос: Каковы методы определения (измерения) валового внутреннего продукта (ВВП)?
11.	Дайте развернутый обоснованный ответ на вопрос: В чем разница между частными и общественными благами, производимыми в экономике?
12.	Дайте развернутый обоснованный ответ на вопрос: В чем заключается основная проблема производства общественных благ в экономике? Что может сделать государство для решения этой проблемы?
13.	Дайте развернутый обоснованный ответ на вопрос: Что собой представляют внешние эффекты в экономике?
14.	Дайте развернутый обоснованный ответ на вопрос: В чем заключается проблема асимметричной информации при функционировании рынка?
15.	Дайте развернутый обоснованный ответ на вопрос: Что собой представляет проблема неполных рынков? Приведите примеры неполных рынков.
16.	Дайте развернутый обоснованный ответ на вопрос: Что собой представляет макроэкономическая нестабильность?
17.	Дайте развернутый обоснованный ответ на вопрос: Какие модели рынка выделяются на основе особенностей конкуренции продавцов и характера реализуемой продукции?
18.	Дайте развернутый обоснованный ответ на вопрос: Какие функции выполняют в современной смешанной экономике рыночные механизмы?
19.	Дайте развернутый обоснованный ответ на вопрос: Что означает «фиаско рынка»?
20.	Дайте развернутый обоснованный ответ на вопрос: Как влияет неравенство в распределении ресурсов и доходов в экономике? Что делает государство для смягчения этого фактора?
21.	Дайте развернутый обоснованный ответ на вопрос: Что такое экономические циклы? Какие фазы включает экономический цикл?
22.	Дайте развернутый обоснованный ответ на вопрос: Как различаются по продолжительности экономические циклы?
23.	Дайте развернутый обоснованный ответ на вопрос: Что означают понятия «рыночное равновесие» и «рыночное неравновесие»?
24.	Дайте развернутый обоснованный ответ на вопрос:

	В чем состоят особенности возникновения и развития монополий, ограничение конкуренции?												
25.	<p>Дайте развернутый обоснованный ответ на вопрос: Что делает государство для предотвращения монополизации и поддержки конкуренции на рынке?</p>												
26.	<p>Дайте развернутый обоснованный ответ на вопрос: Что собой представляет финансовая система государства? Назовите основные признаки финансовых отношений.</p>												
27.	<p>Дайте развернутый обоснованный ответ на вопрос: Что относят к общегосударственным финансам?</p>												
28.	<p>Дайте развернутый обоснованный ответ на вопрос: Какие основные функции выполняют финансы в экономике государства?</p>												
29.	<p>Дайте развернутый обоснованный ответ на вопрос: Какие функции выполняют налоги в экономике?</p>												
30.	<p>Дайте развернутый обоснованный ответ на вопрос: В чем разница между прямыми и косвенными налогами?</p>												
Практические задания													
1.	<p>1. Экономика некоторой страны находится на границе своих производственных возможностей, которые отражены на рисунке. Текущая ситуация: производится 25 тыс. шт. инвестиционных товаров и 80 млн. шт. потребительских товаров. Определить альтернативную стоимость решения об увеличении производства инвестиционных товаров на 20 тыс. шт., выразив её в млн. шт. потребительских товаров.</p> <table border="1"> <caption>Данные для графика производственных возможностей</caption> <thead> <tr> <th>Инвестиционные товары (тыс. шт.)</th> <th>Потребительские товары (млн. шт.)</th> </tr> </thead> <tbody> <tr> <td>0</td> <td>100</td> </tr> <tr> <td>10</td> <td>95</td> </tr> <tr> <td>25</td> <td>80</td> </tr> <tr> <td>45</td> <td>50</td> </tr> <tr> <td>70</td> <td>0</td> </tr> </tbody> </table>	Инвестиционные товары (тыс. шт.)	Потребительские товары (млн. шт.)	0	100	10	95	25	80	45	50	70	0
Инвестиционные товары (тыс. шт.)	Потребительские товары (млн. шт.)												
0	100												
10	95												
25	80												
45	50												
70	0												

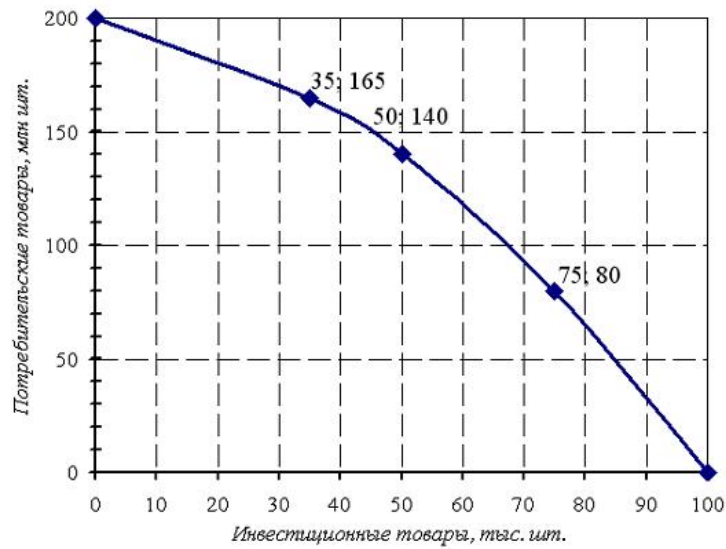
2. На рисунке представлены варианты рыночного равновесия при пересечении разных кривых спроса и предложения на рынке лекарственных препаратов против гриппа. Рыночное равновесие установилось в точке А. Какие изменения могут привести к смещению рыночного равновесия в точку Б?
- А. Предоставление государством дотаций фармацевтическим компаниям, производящим эти лекарственные препараты;
 - В. Эпидемия гриппа;
 - С. Повышение цен на сырье для производства лекарственных препаратов против гриппа;
 - Д. Увлечение населения самолечением с помощью народных средств.



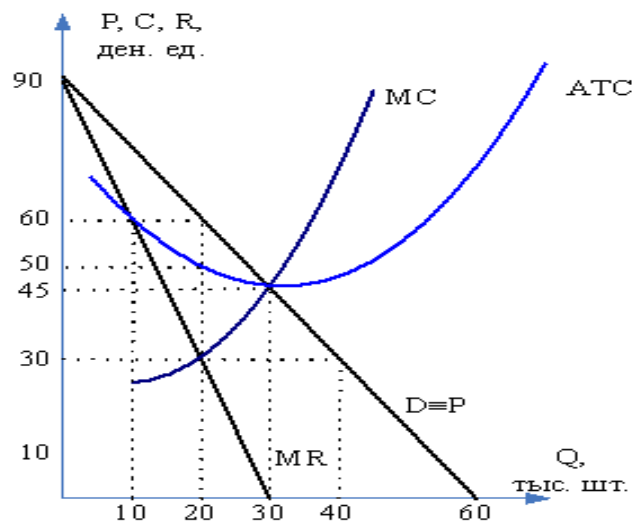
3. Экономика некоторой страны находится на границе своих производственных возможностей, которые отражены ниже на рисунке. Текущая ситуация: производится 75 тыс. шт. инвестиционных товаров и 70 млн. шт. потребительских товаров. Определить альтернативную стоимость решения об увеличении производства потребительских товаров на 50 млн. шт., выразив её в тыс. шт. инвестиционных товаров.



4. Экономика некоторой страны находится на границе своих производственных возможностей, которые отражены на рис. 3. Текущая ситуация: производится 50 тыс. шт. инвестиционных товаров и 140 млн. шт. потребительских товаров. Определить альтернативную стоимость решения об увеличении производства инвестиционных товаров на 25 тыс. шт., выразив её в млн. шт. потребительских товаров.



5. Функция общих издержек монопольной фирмы имеет вид $TC = 2Q + 10$. Эластичность спроса по цене $E_d = -6$. Какую цену установит монополист ?
6. На рисунке представлена графическая модель доходов и издержек фирмы-монополиста. Определите монопольную прибыль при оптимальном объеме производства.



7. ВВП страны составил в базовом году 102 трлн. руб., в текущем году – вырос на 8% при индексе цен в этом году – 112 %. Определите объем реального ВВП текущего года и индекс роста ВВП. В какой фазе цикла находится экономика?
8. В задаче даны индексы цен за ряд лет: 2015 г. – 1008 %, 2016 – 1020%, причем 2000 – 100%. Определите уровень инфляции 2016 года.
9. В некотором государстве доходы бюджета составили 385 ден. ед., расходы бюджета – 450 ден. ед., доходы внебюджетных фондов – 35 ден. ед. Определить общий дефицит бюджета.
10. Население страны 60 млн. чел., в том числе дети – 13 млн. чел., пенсионеры – 12 млн. чел.. занятые по найму – 25 млн. чел. и 5 млн. чел. – самозанятые (в малом бизнесе), госслужащие – 2 млн. чел., лица в рабочем возрасте, неработающие и не ищущие работу – 1 млн. чел. Определите количество безработных и уровень безработицы.
11. Доходы бюджета страны равны 900 млрд. ден.ед., расходы на социальные нужды – 400 млрд. ден.ед., государственные закупки товаров и услуг – 350 млрд. ден.ед., проценты по обслуживанию государственного долга – 100 млрд. ден.ед.
Определить, сводится ли государственный бюджет с дефицитом или профицитом.
Чему он равен?
12. Уровень инфляции за год составил 18,1 %. Соответственно, в первом квартале цены выросли на 2 %, во втором на 5 %, в третьем на 6 %.

		Определить, на сколько процентов выросли цены в четвертом квартале.		
	13.	Для достижения потенциального ВВП, который равен 6000 млрд.; правительство в 2022 году увеличило госзакупки на 300 млрд.; а трансферты — на 55 млрд.; Предельная склонность к сбережению равна 0,5. Найдите фактический ВВП прошлого 2020 года.		
	14.	Найдите равновесный уровень ВВП при условии, что инвестиции предпринимателей составили 80 ден.единиц, госрасходы —300,чистый экспорт —100, автономные потребительские расходы —150, а предельная склонность к сбережению равна 0,5.		
	15.	Уровень инфляции за два месяца равен 50%. На сколько процентов в среднем росли цены каждый месяц?		
	16.	Номинальный ВВП вырос с 1500 млрд руб. до 1650 млрд. руб. Цены за этот же период выросли на 5%. Чему равно изменение реального ВВП?		
	17.	Опираясь на имеющиеся данные, определите размер инвестиций, импорт, если экспорт равен 350 млрд руб. и ЧВП, если амортизация равна 450 млрд руб. ВВП = 7200млрд руб., потребительские расходы (С) = 4200 млрд руб., государственные расходы G = 1100 млрд руб., чистый экспорт X = 100 млрд руб.		
	18.	В национальной экономике производится две группы товаров: потребительские товары и товары производственного назначения (средства производства). В анализируемый период потребительских товаров произвели в объеме 700 тыс. ед. по средней цене 30 ден.ед. и средств производства в объеме 200 тыс. ед. по цене 150 ден.ед. за единицу. К концу анализируемого периода 10 тыс.ед. используемых средств производства должны быть заменены новыми. Определите: ВВП, ЧВП, объем потребления и объем валовых инвестиций.		
	19.	Функция потребления имеет вид $C = 3000 + 0,7 Y$, где Y – национальный доход, инвестиции составляют 7500 ден. ед., чистый экспорт = 1500 ден.ед., государственные закупки = 14000. Национальный доход составил 60000 ден.ед. Налоги = 15000 ден. ед. Определите размер совокупного спроса, а также изменение совокупного спроса, если потребительские расходы уменьшатся на 2000 ден.ед.		
	20.	На основе имеющихся данных определите совокупный спрос. Потребительские расходы домашних хозяйств – 860 млрд руб., экспорт товаров и услуг – 170 млрд руб., импорт товаров и услуг – 140 млрд руб., амортизация - 90 млрд руб., заработная плата – 450 млрд руб., государственные расходы – 340 млрд руб., прибыль – 240 млрд руб., инвестиции на развитие бизнеса – 120 млрд руб.		
УК-6. Способен определять и реализовывать	Задания закрытого типа			
	1.	К каждой позиции, данной в левом столбце, подберите соответствующую позицию из правого столбца:		
		Виды вынужденной безработицы		Определение

приоритеты собственной деятельности и способы ее совершенствования на основе самооценки.		А	Структурная безработица	1	Вызвана заменой ручного труда машинным и увольнением работников												
		Б	Технологическая безработица	2	Связана с колебаниями спроса на рабочую силу во время экономического цикла. Такая безработица возрастает во время спада и достигает максимума во время кризиса												
		В	Циклическая безработица	3	Появляется в силу того, что в разных отраслях и регионах количество рабочих мест часто не соответствует количеству работников с определенными профессиями и квалификацией. Такая безработица усиливается в периоды изменения отраслевой структуры экономики												
		Г	Сезонная безработица	4	Это вид безработицы, при котором фактически рабочая сила на рынке труда не используется, но формально трудовые отношения с работодателями у работников зарегистрированы												
		Д	Скрытая безработица	5	Охватывает людей, давно потерявших работу и поэтому утративших квалификацию. Таким безработным труднее всего найти рабочие места												
		Е	Застойная безработица	6	Вызвана колебаниями спроса на работников в отраслях, где производство имеет сезонный характер (например, в сельском хозяйстве)												
		Запишите выбранные цифры под соответствующими буквами:															
<table border="1"> <tr> <td>А</td> <td>Б</td> <td>В</td> <td>Г</td> <td>Д</td> <td>Е</td> </tr> <tr> <td></td> <td></td> <td></td> <td></td> <td></td> <td></td> </tr> </table>						А	Б	В	Г	Д	Е						
А	Б	В	Г	Д	Е												
2.	К каждой позиции, данной в левом столбце, подберите соответствующую позицию из правого столбца: Оценка с целью определения «провалившихся государств»																
		Оценочная группа		Критерии													
	А	Социальные критерии	1	- неравномерное экономическое развитие в разрезе групп; - резкий и/или серьезный экономический упадок													
	Б	Экономические	2	- криминализация и/или делегитимность													

	критерии		государства; - прогрессирующее ухудшение общественных услуг; - приостановка или произвольное применение закона и широко распространенное нарушение прав человека; - аппарат служб безопасности превращается в «государство в государстве»; - фракционализация (фрагментация) элит; - интервенция других государств или внешнего политического актора
В	Политические критерии	3	- растущее демографическое давление; - массовое движение беженцев и внутренне перемещенных лиц, создающее комплексную чрезвычайную гуманитарную ситуацию; - групповая паранойя; - хронический и устойчивый отток людей

Запишите выбранные цифры под соответствующими буквами:

А	Б	В

3. К каждой позиции, данной в левом столбце, подберите соответствующую позицию из правого столбца:

	Виды бюджетных дефицитов		Определение
А	Структурный дефицит госбюджета	1	Результат действия встроенных стабилизаторов.
Б	Циклический дефицит госбюджета	2	Разность между расходами и доходами в условиях полной занятости
В	Операционный дефицит госбюджета	3	Разность между величиной общего дефицита и всей суммой выплат по долгу
Г	Первичный дефицит госбюджета	4	Существующий наряду с измеряемым (официальным) скрытый дефицит госбюджета
Д	Квазифискальный (квазибюджетный) дефицит госбюджета	5	Общий дефицит госбюджета за вычетом инфляционной части процентных платежей по обслуживанию государственного долга

Запишите выбранные цифры под соответствующими буквами:

А	Б	В	Г	Д

К каждой позиции, данной в левом столбце, подберите соответствующую позицию из правого столбца:

	Классификация налогов		Виды налогов
А	По органу взимания	1	Федеральные, региональные, местные
Б	По объекту налогообложения	2	Маркированные и немаркированные
В	По форме, в которой взимается налог	3	Прямые и косвенные
Г	По цели взимания налога	4	Денежные и натуральные
Д	По источнику уплаты	5	Пропорциональные, прогрессивные и регрессивные
Е	По способу исчисления налога	6	Налоги на производство и потребление
Ж	По соотношению средней и предельной ставок налога	7	Специфические и стоимостные

Запишите выбранные цифры под соответствующими буквами:

А	Б	В	Г	Д	Е	Ж

К каждой позиции, данной в левом столбце, подберите соответствующую позицию из правого столбца:

	Критерии оценки налоговых систем		Определение
А	Относительное равенство обязательств	1	Минимизация затрат на обслуживание налоговой системы (затраты времени на сбор информации, ведение налогового учета, оплата консультантов и т. д.)
Б	Экономическая нейтральность	2	Достижение справедливости в обществе
В	Организационная простота	3	Принцип, в соответствии с которым конкретные налоги и налоговая система в целом должны по возможности в наименьшей

			степени искажать решения налогоплательщиков
Г	Гибкость налога	4	Возможность избирателей корректировать политику государства в области налогообложения через участие в выборах и реформах, а также способность граждан распознавать особенности тех или иных налогов и проецировать их на собственные интересы.
Д	Прозрачность налогов	5	Способность налога адекватно реагировать на динамику макроэкономических процессов

Запишите выбранные цифры под соответствующими буквами:

А	Б	В	Г	Д

6. К каждой позиции, данной в левом столбце, подберите соответствующую позицию из правого столбца:

Классификация государственных расходов

	Виды		Определение
А	Функциональная классификация	1	Это группировка общественных расходов по содержанию, отражающему все виды финансовых операций, с помощью которых государство выполняет свои функции как внутри страны, так и во взаимоотношениях с другими странами.
Б	Экономическая классификация	2	Расходы группируют по целевому назначению: военные, экономические, социальные, внешнеэкономические и внешнеполитические, на содержание аппарата управления и др.
В	Трансформационные расходы	3	Предоставляются на безвозмездной основе, например, субсидии, пособия домашним хозяйствам, социальное обеспечение
Г	Трансфертные расходы	4	Денежные средства государства, которые предоставляются в обмен на услугу, выраженную в товаре или труде, например, государственные инвестиции, государственное потребление товаров и услуг, выплата из бюджета заработной платы

Запишите выбранные цифры под соответствующими буквами:

А	Б	В	Г

7. К каждой позиции, данной в левом столбце, подберите соответствующую позицию из правого столбца:
Закрепление функций государства и способа решения

	Функция государства		Решение
А	Аллокационная	1	Децентрализованное Централизованное
Б	Перераспределительная	2	Централизованное
В	Стабилизационная	3	Децентрализованное

Запишите выбранные цифры под соответствующими буквами:

А	Б	В

8. К каждой позиции, данной в левом столбце, подберите соответствующую позицию из правого столбца:
Виды финансовых перечислений из федерального в региональные бюджеты

	Виды		Определение
А	Дотации	1	Предоставляются на безвозмездной и безвозвратной основе в виде: денежных средств, товаров, услуг, материальных ценностей (права собственности) в порядке оказания финансовой помощи и предоставления компенсации в соответствии с законами или иными нормативными правовыми актами органов государственной власти
Б	Субсидии	2	Предоставляются на определенные цели на условиях софинансирования (долевого финансирования) расходов
В	Субвенции	3	Предоставляются без целевого назначения (в качестве финансовой помощи)
Г	Трансферты	4	Предоставляются на определенные цели

Запишите выбранные цифры под соответствующими буквами:

А	Б	В	Г

9. К каждой позиции, данной в левом столбце, подберите соответствующую позицию из правого столбца:

	Виды		Механизм функционирования
А	Налоговый экспорт	1	Добровольное объединение налогоплательщиков на основе договора о создании консолидированной группы налогоплательщиков в порядке и на условиях, которые предусмотрены Налоговым кодексом
Б	Налоговая конкуренция	2	Это практика одной юрисдикции или страны, взимающей налоги с юридических лиц из другой страны за ведение предпринимательской деятельности в пределах ее границ
В	Налоговая кооперация	3	Соперничество публично-правовых образований за мобильные факторы производства и (или) налоговую базу, выражающееся в использовании инструментов налоговой политики для целенаправленного воздействия на экономические интересы налогоплательщиков

Запишите выбранные цифры под соответствующими буквами:

А	Б	В

10.

К каждой позиции, данной в левом столбце, подберите соответствующую позицию из правого столбца:

	Термины		Определение
А	Дефолт	1	Термин, используемый в современной макроэкономике для обозначения ситуации, в которой экономический спад и депрессивное состояние экономики (стагнация и рост безработицы) сочетаются с ростом цен — инфляцией.
Б	Рецессия	2	Уменьшение золотого содержания денежной единицы в условиях золотого стандарта. В современных условиях термин применяется для ситуаций официального снижения курса национальной валюты по отношению к

			твёрдым валютам в системах с фиксированным курсом валюты, устанавливаемым денежными властями
В	Девальвация	3	Этот термин обозначает относительно умеренный, некритический спад производства или замедление темпов экономического роста. Спад производства характеризуется нулевым ростом валового национального продукта (ВНП) (стагнация) или его падением на протяжении более полугода
Г	Стагфляция	4	Невыполнение договора займа, то есть неоплата своевременно процентов или основного долга по долговым обязательствам или по условиям договора о выпуске облигационного займа
Д	Ревальвация	5	Повышение курса национальной валюты по отношению к валютам других стран, международным счётным денежным единицам, золоту

Запишите выбранные цифры под соответствующими буквами:

А	Б	В	Г	Д

К каждой позиции, данной в левом столбце, подберите соответствующую позицию из правого столбца:

11.		Основные типы потребительских бюджетов		Определение
	А	Бюджет прожиточного минимума	1	Характеризует структуру и уровень удовлетворения потребностей, которые общество на данном этапе экономического развития считает минимально необходимыми. Он обеспечивает нормальное воспроизводство и развитие рабочей силы трудоспособных, а также нормальную жизнедеятельность нетрудоспособных
	Б	Минимальный потребительский бюджет	2	Позволяет удовлетворять в основном рациональные (разумно обоснованные) физические и духовные потребности населения и обеспечивать развивающий

			характер потребления
В	Бюджет высокого достадка	3	Это стоимостная оценка потребительской корзины, в которую включается минимальный набор продуктов питания, непродовольственных товаров и услуг, необходимых для сохранения здоровья человека и обеспечения его жизнедеятельности. Его рассматривают в качестве минимального социального стандарта, который ориентирован на физическое выживание человека

Запишите выбранные цифры под соответствующими буквами:

А	Б	В

12. К каждой позиции, данной в левом столбце, подберите соответствующую позицию из правого столбца:

	Принципы формирования бюджета		Определение
А	Принцип гласности и открытости	1	Принцип формирования и исполнения бюджета, состоящий в количественном соответствии расходов источникам их финансирования
Б	Принцип ежегодности	2	Все доходы и расходы должны быть включены в общий бюджет. Недопустимо иметь скрытые бюджеты, неподконтрольные парламенту, ибо это может создать ситуацию финансовых злоупотреблений исполнительной властью
В	Принцип полноты бюджетного процесса	3	Точность оценки финансового плана и действенности бюджетного контроля со стороны парламента требует строгой системности бюджетной классификации и простоты отслеживания хода финансовых операций в процессе исполнения государственного бюджета
Г	Единство бюджетной системы	4	Составление, рассмотрение и утверждение бюджета должны быть достоянием всех людей. Парламентское обсуждение и

			принятие проекта бюджета следует широко освещать средствами массовой информации
Д	Самостоятельность бюджетов	5	Обеспечивается наличием собственных источников доходов и правом определять направления их использования
Е	Необходимость ясности бюджетного процесса	6	Обеспечивается правовой базой, бюджетной классификацией, формами бюджетной документации и финансовой отчетности, согласованностью бюджетов разного уровня. Этот принцип предполагает строгое соблюдение финансовой дисциплины, использование соответствующих методов финансового мониторинга, финансово-ревизионной работы, включая применение административных и финансовых санкций
Ж	Сбалансированность бюджетов	7	Предусматривает утверждение бюджета на следующий год и составление бюджета с учетом календарного и бюджетного года

Запишите выбранные цифры под соответствующими буквами:

А	Б	В	Г	Д	Е	Ж

13. К каждой позиции, данной в левом столбце, подберите соответствующую позицию из правого столбца:

	Виды налогов		Определение
А	Пропорциональные	1	Это налоги, ставки которых уменьшаются с ростом стоимости объекта налогообложения
Б	Прогрессивные	2	Это налоги, величина ставки которых устанавливается в абсолютной сумме на единицу измерения налоговой базы
В	Дегрессивные или регрессивные	3	Это налоги, ставки которых увеличиваются с ростом стоимости объекта налогообложения
Г	Твердые	4	Это налоги, ставки которых устанавливаются в фиксированном проценте к доходу или стоимости имущества

Запишите выбранные цифры под соответствующими буквами:

А	Б	В	Г

14. К каждой позиции, данной в левом столбце, подберите соответствующую позицию из правого столбца:

	Формы скрытой асимметричной информации		Определение
А	Моральный риск	1	Форма асимметричной информации, имеющей место тогда, когда одна из сторон рыночной сделки скрывает информацию о своих действиях. Примером такой информации может быть рынок страхования от разводов. В этом случае в соответствии со страховым полисом разведенным супругам выплачивается определенная сумма. Страховым компаниям невыгодно продавать такие полисы
Б	Неблагоприятный отбор	2	Форма асимметричной информации, имеющей место тогда, когда одна из сторон рыночной сделки скрывает какие-то знания, какие-то характеристики сделки и тем самым наносит ущерб другой стороне. Примером такой информации может быть рынок подержанных автомобилей и рынок медицинского страхования пожилых людей

Запишите выбранные цифры под соответствующими буквами:

А	Б

15. К каждой позиции, данной в левом столбце, подберите соответствующую позицию из правого столбца:

	Механизмы общественного выбора		Определение
А	Теорема о невозможности К. Эрроу	1	При наличии более двух альтернатив и более двух избирателей коллективная ранжировка альтернатив может быть цикличной, даже если ранжировки всех избирателей не являются циклическими
Б	парадокс Кондорсе	2	Это показывает, что никакое правило порядкового голосования не может обеспечить логически согласованный рейтинг на выборах с участием более чем двух кандидатов

В	Теорема медианного избирателя	3	При голосовании по принципу большинства выбор избирателя будет поддержан большинством избирателей
---	-------------------------------	---	---

Запишите выбранные цифры под соответствующими буквами:

А	Б	В

16. К каждой позиции, данной в левом столбце, подберите соответствующую позицию из правого столбца:

	Методы определения ВВП		Формулировки
А	Метод добавленной стоимости (производственный метод)	1	Это затраты домашних хозяйств, фирм, государства и иностранных экономических субъектов на приобретение товаров и услуг, предназначенных для конечного использования (конечного потребления и накопления)
Б	Метод определения ВВП по расходам	2	Сумма всех доходов резидентов и нерезидентов в стране (зарплата, процентных выплат, ренты, импорта), валовой прибыли всех отраслей или институциональных секторов и чистых налогов на производство и импорт
В	Метод определения ВВП по доходам (по распределению)	3	Этот метод учитывает только стоимость конечной продукции на каждом этапе производственной цепочки + чистые налоги на продукты

Запишите выбранные цифры под соответствующими буквами:

А	Б	В

17. К каждой позиции, данной в левом столбце, подберите соответствующую позицию из правого столбца:

	Экономические течения		Макроэкономическое равновесие и его условия в трактовке экономистов
А	Неоклассики	1	Экономика не в состоянии автоматически задействовать все ресурсы. Естественные рыночные механизмы постоянно порождают безработицу, недогрузку производственных мощностей. Чтобы устранить эти проблемы саморегуляторов рынка недостаточно, требуется воздействие извне, со стороны

				государства	
			2	Нормальное состояние экономики – полная занятость ресурсов. Полная занятость ресурсов поддерживается автоматически; она нарушается лишь внешними для экономики факторами (например, войнами, государственными переворотами и т.д.)	
			3	Совокупный спрос всегда равен совокупному предложению. Если совокупный спрос на время снизится и становится недостаточным для покупки всего произведенного, то в ответ на это начинается снижение уровня цен. В результате совокупный спрос возрастает и выравнивается с совокупным предложением	
		Б	Кейнсианцы	4	Совокупный спрос (совокупные расходы) всегда отстает от совокупного предложения. Увеличить его очень сложно. В современной экономике цены не могут также быстро снижаться, как они повышаются. Стоит ценам повыситься, как совокупное предложение оказывается выше совокупного спроса, и равновесие нарушается
	5			Сбережения не совпадают с инвестициями, а превышают их. Чем быстрее растут доходы людей, тем быстрее увеличиваются сбережения. Далеко не все сбережения инвестируются в производство. Если экономика быстро растет и быстро увеличивает доходы людей, то сфер прибыльного инвестирования средств остается все меньше. Поэтому сбережения и превышают инвестиции. Исправить ситуацию может только вмешательство государства	
	6			Сбережения в экономике совпадают с инвестициями. Все деньги, которые потребители откладывают и сберегают в банках, затем полностью уходят в виде кредитов в инвестиции. Поэтому любой	

			“пробел”, который возникает в совокупном спросе за счет сбережений, полностью заполняется инвестициями
--	--	--	--

Запишите выбранные цифры под соответствующими буквами:

А		Б	

18. К каждой позиции, данной в левом столбце, подберите соответствующую позицию из правого столбца:

	Функции налогов		Формулировки
А	Фискальная	1	С помощью налогов можно оживлять или замедлять экономическое развитие, что используется для смягчения циклических колебаний в экономике
Б	Стимулирующая	2	Она заключается в выравнивании доходов населения: за счет налоговых поступлений в бюджете образуются средства для трансфертных платежей, т.е. для разных видов социальной помощи малообеспеченным
В	Перераспределительная	3	Формирование государственного бюджета и других бюджетов, т.е. финансирование государственных расходов

Запишите выбранные цифры под соответствующими буквами:

А	Б	В

19. К каждой позиции, данной в левом столбце, подберите соответствующую позицию из правого столбца:

	Принципы налогообложения		Формулировки
А	Адам Смит	1	<ul style="list-style-type: none"> - Размер налога должен соответствовать доходу; - заранее должны быть известны срок, способ и размер налогового платежа; - время и способ уплаты налога должны быть удобны налогоплательщику; - ощущение потери от уплаты налога должно быть одинаковым у всех налогоплательщиков: чем выше доход, тем выше должна быть налоговая ставка

Б	Пол Самуэльсон	2	- принцип разумного размера налога: существует предел, выше которого налоги повышать нельзя
В	Артур Лаффер	3	- принцип выгоды: налог должен соответствовать выгоде, которую налогоплательщик ожидает от государства (в качестве выгод выступают хорошие дороги, благоустроенные территории, эффективная социальная защита людей, высокая общественная безопасность)

Запишите выбранные цифры под соответствующими буквами:

А	Б	В

20. К каждой позиции, данной в левом столбце, подберите соответствующую позицию из правого столбца:

Виды налогов		Формулировки	
А	Прямые налоги	1	Акцизы
		2	На прибыль
		3	Таможенные пошлины
Б	Косвенные налоги	4	На имущество
		5	Подходные налоги
		6	НДС – налог на добавленную стоимость

Запишите выбранные цифры под соответствующими буквами:

А		Б	

Задания открытого типа

1. Дайте развернутый обоснованный ответ на вопрос:
Что собой представляет экономическая теория благосостояния?
2. Дайте развернутый обоснованный ответ на вопрос:
Что такое общее конкурентное равновесие в экономике?
3. Дайте развернутый обоснованный ответ на вопрос:
Что означает оптимальность по Парето и Парето-эффективность?
4. Дайте развернутый обоснованный ответ на вопрос:
Что относится к жизненно важным и жизненно вредным благам? Приведите примеры.
5. Дайте развернутый обоснованный ответ на вопрос:
Что относится к денежным внешним эффектам?

6.	Дайте развернутый обоснованный ответ на вопрос: Что относится к преднамеренным внешним эффектам?
7.	Дайте развернутый обоснованный ответ на вопрос: Что относится к интернализуемым внешним эффектам?
8.	Дайте развернутый обоснованный ответ на вопрос: Что означает равновесие по Линдалю?
9.	Дайте развернутый обоснованный ответ на вопрос: В чем состоит суть налога Кларка?
10.	Дайте развернутый обоснованный ответ на вопрос: Из чего состоит структура доходной части государственного бюджета?
11.	Дайте развернутый обоснованный ответ на вопрос: Что такое сальдо бюджета?
12.	Дайте развернутый обоснованный ответ на вопрос: Какие бывают виды бюджетных дефицитов?
13.	Дайте развернутый обоснованный ответ на вопрос: Какие критерии оценки налоговых систем учитывают заданные потребности в финансировании общественных благ и принципы политики перераспределения?
14.	Дайте развернутый обоснованный ответ на вопрос: Какие концепции избыточного налогового бремени Вам известны?
15.	Дайте развернутый обоснованный ответ на вопрос: Что из себя представляют расходы государства?
16.	Дайте развернутый обоснованный ответ на вопрос: Как происходит распределение расходов между уровнями бюджетной системы в соответствии с принципами бюджетного федерализма?
17.	Дайте развернутый обоснованный ответ на вопрос: В чем состоит выбор между централизованным и децентрализованным решением согласно теореме Оутса?
18.	Дайте развернутый обоснованный ответ на вопрос: В чем состоит сущность бюджетного федерализма?
19.	Дайте развернутый обоснованный ответ на вопрос: В чем заключаются нормы бюджетного федерализма?
20.	Дайте развернутый обоснованный ответ на вопрос: В чем заключается экономический смысл теории Ч. Тибу?

	21.	Дайте развернутый обоснованный ответ на вопрос: Какие причины способствуют вмешательству центральной власти в деятельность нижестоящих бюджетов?
	22.	Дайте развернутый обоснованный ответ на вопрос: На каких принципах строится модель бюджетного федерализма?
	23.	Дайте развернутый обоснованный ответ на вопрос: В чем разница между прогрессивными, регрессивными и пропорциональными налогами?
	24.	Дайте развернутый обоснованный ответ на вопрос: В чем состоят особенности дискреционной и автоматической фискальной политики и каково их влияние на макроэкономические процессы?
		Практические задания не предусмотрены